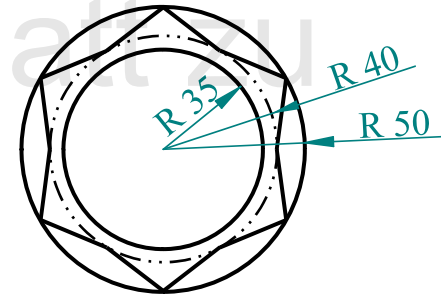
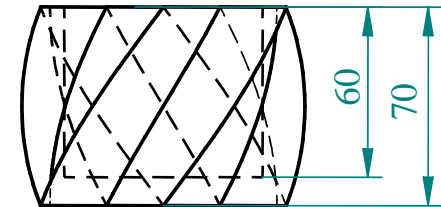
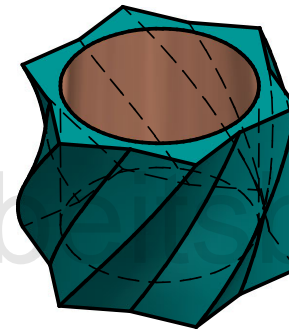

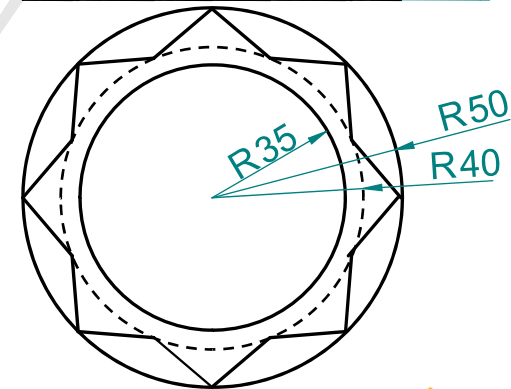
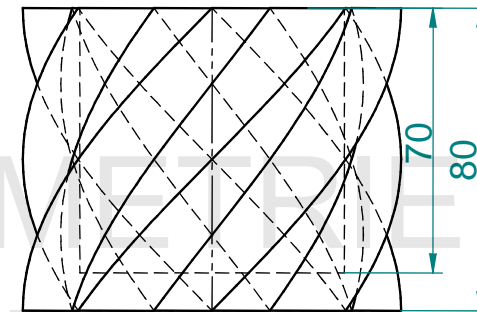
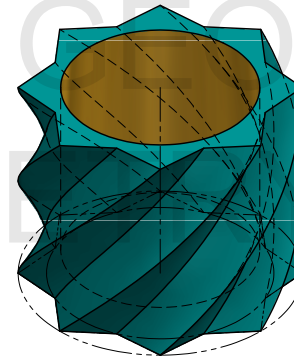


Die Bilder unten zeigen jeweils ein Teelicht. Analysiere, welche Körper, oder Flächen bei diesem Objekt vorkommen. Konstruiere nach der Analyse das Objekt mit Hilfe deiner CAD-Software.

a)




b)



Die Bilder unten zeigen jeweils ein Teelicht. Analysiere, welche Körper, oder Flächen bei diesem Objekt vorkommen. Konstruiere nach der Analyse das Objekt mit Hilfe deiner CAD-Software. Wähle die Maße so, dass die Proportionen stimmen.

a)



b)



anzendes Arbeitsblatt zu

DEZELLENDENDE GEOMETRIE
3D-GEOMETRY