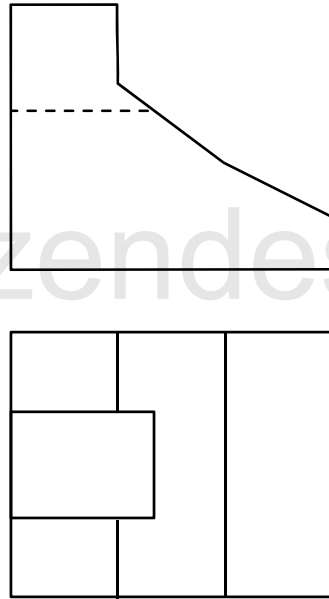
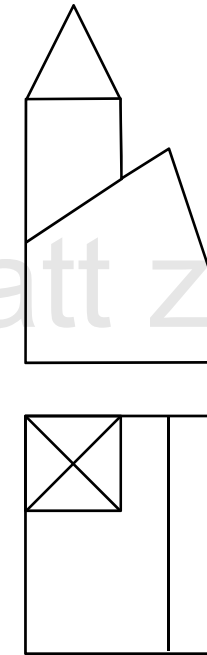


Wähle ein passendes Koordinatensystem und beschrifte die Achsen korrekt. Bestimme dann einen zu diesem Grund- und Aufriss passenden Kreuzriss des gegebenen Objekts und stelle diesen mit richtiger Sichtbarkeit dar.

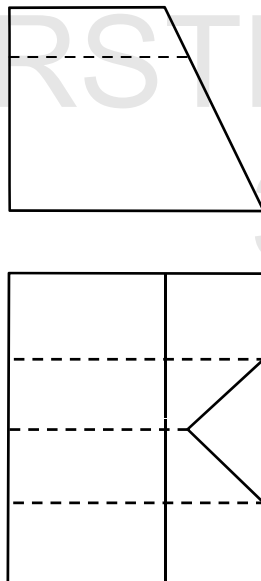
a)



b)



c)



d)

